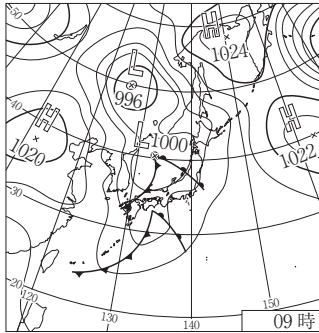


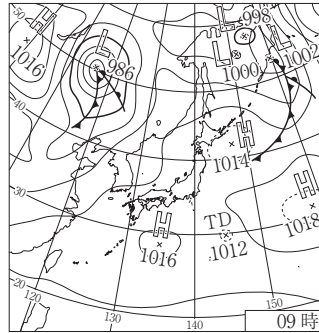
名前

/

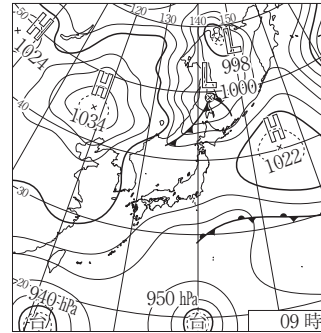
1 下の図のア～ケは、気象庁のホームページからダウンロードした天気図です。すべての天気図は午前9時のものであり、図中の「H」は高気圧、「L」は低気圧を表しています。以下の各問に答えなさい。



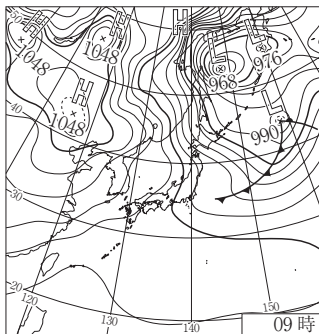
ア



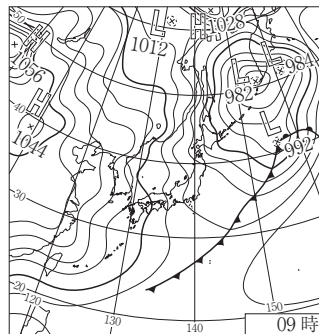
イ



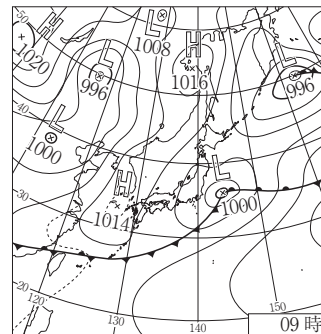
ウ



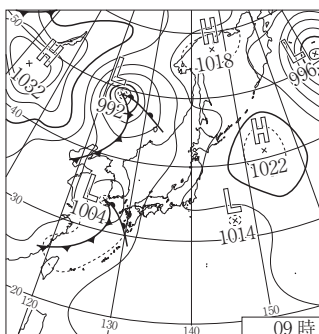
エ



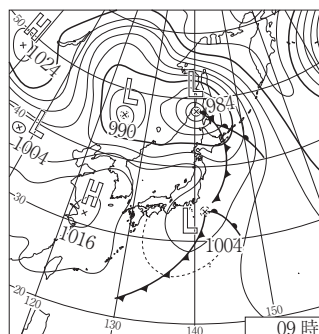
オ



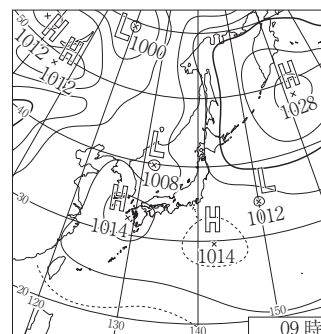
カ



キ



ク



ケ

問1 アの天気図において、天気図から3時間経過した12時ごろの大阪の天気として予想されるものを、次の天気記号A～Dから1つ選んで、記号で答えなさい。()

- A ○ B ● C ⊖ D ⊗

問2 1年中、日本の天気の変化に影響をあたえている西よりの風を何といいますか。漢字で答えなさい。()

問3 天気図に描かれている、同じ気圧の場所をつなぎ合わせてできた線を何といいますか。漢字で答えなさい。()

